

# おには そと ふくは うち

もうすぐ せつふんです。ピグマの なかまたちで まめまきを するよ。えを みて かんがえてね。



## おにたいじ

ひかるくんたちは、おにたいじを します。

つのが 1ぽんの おに ( ) には まめを 1つ、

つのが 2ぽんの おに ( ) には まめを 2つ つかいます。


4ひきの おにを せんで かこんで たいじします。

せんで かこむ ときは、2つに わかれられないように します。

みんなは どの おにを たいじしたのかな。せんで かこみましょう。



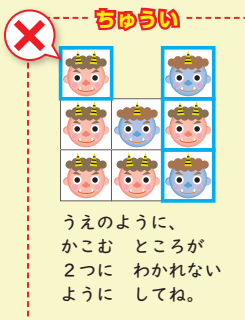
(れい)



まめは 7つ。  
**あか**で かこんでね。



まめは 6つ。  
**あお**で かこんでね。



ロイは  
この 4ひきを  
たいじしたよ。




メイは まめを 7つ  
もって いるから、  
つのが 2ぽんの  
おにを 3びき、  
つのが 1ぽんの  
おにを 1びき  
たいじしたんだね。



メイは  
この 4ひきを  
たいじしたわ。



## もんだい



ひかるくん

まめは 8つ。**あか**で かこんでね。

えりちゃん

まめは 7つ。**あお**で かこんでね。

さやかちゃん

まめは 5つ。**みどり**で かこんでね。

げんちゃん

まめは 4つ。**きいろ**で かこんでね。



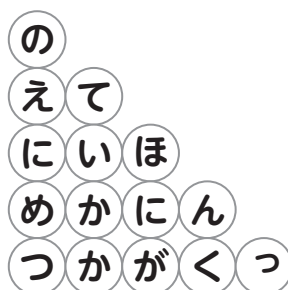
「はかせより」  
だって。



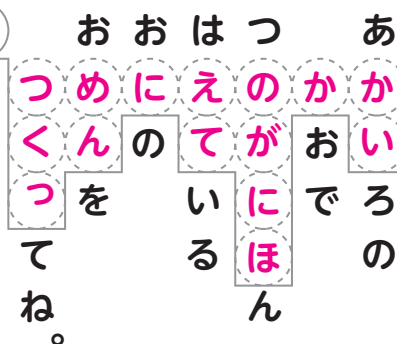
(解答例)



げんちゃんが、はかせから  
おねがい された ものを、  
うえの わくの なかに  
えて かいてね。



## もんだい



の なかの もじを  
みぎから ひとつずつ みぎに ころがそう。

## なぞの てがみ

げんちゃん あてに、なぞの  
てがみが とどきました。

